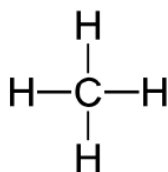



- ① Zeichne zuerst die Lewisschreibweise der beteiligten Atome auf und nutze dann das Bild mit dem gebauten Modell, um die Lewisschreibweise der Verbindungen zu zeichnen.

Beispiel:Methan CH_4 


5.) Aminosäure





1.) HNO



6.) Cyanwasserstoff HCN

2.) Kohlensäure H_2CO_3 

7.) HCOCl

3.) Propadien C_3H_4 8.) Salpetrige Säure HNO_2 4.) NH_2OH 