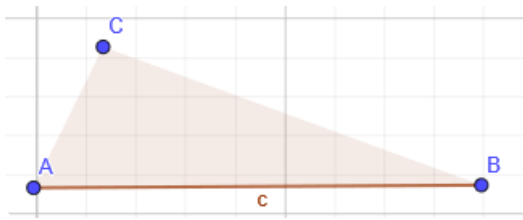


- ① Bestimme die Art des Dreiecks (rechtwinklig, spitzwinklig stumpfwinklig), kreuze an.
- ② Zeichne die Höhe zur markierten Seite ein und miss die Länge der Höhe.

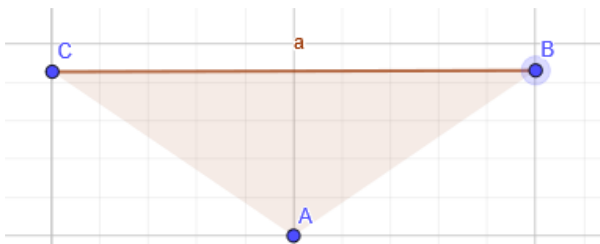


stumpfwinklig

rechtwinklig

spitzwinklig

Länge der Höhe  $h_c =$

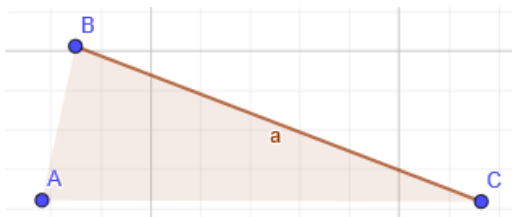


stumpfwinklig

rechtwinklig

spitzwinklig

Länge der Höhe  $h_c =$

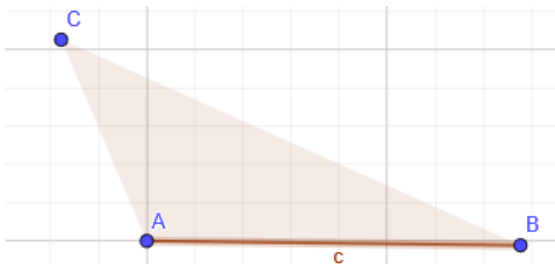


stumpfwinklig

rechtwinklig

spitzwinklig

Länge der Höhe  $h_c =$

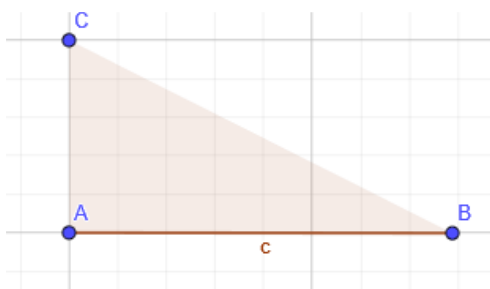


stumpfwinklig

rechtwinklig

spitzwinklig

Länge der Höhe  $h_c =$



stumpfwinklig

rechtwinklig

spitzwinklig

Länge der Höhe  $h_c =$