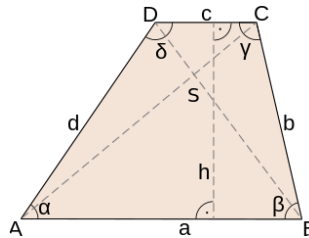




⑤ Zu welcher Figur gehört die angegebene Fläche?

/ 1

- Rechteck
- Raute
- Quadrat
- Parallelogramm
- Trapez
- Drachen
- Dreieck

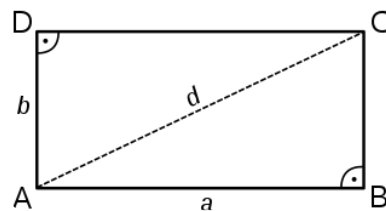


Quelle: Wikipedia

⑥ Zu welcher Figur gehört die angegebene Fläche?

/ 1

- Rechteck
- Raute
- Quadrat
- Parallelogramm
- Trapez
- Drachen
- Dreieck

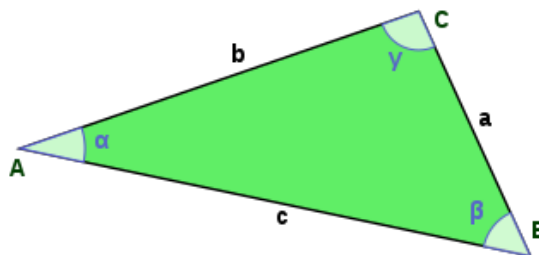


Quelle: Wikipedia

⑦ Zu welcher Figur gehört die angegebene Fläche?

/ 1

- Rechteck
- Raute
- Quadrat
- Parallelogramm
- Trapez
- Drachen
- Dreieck

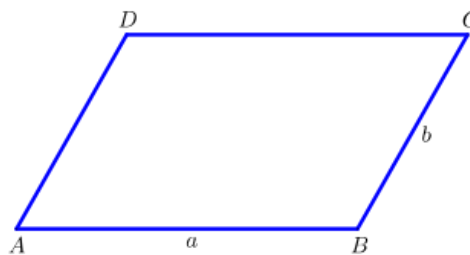


Quelle: Wikipedia

⑧ Zu welcher Figur gehört die angegebene Fläche?

/ 1

- Rechteck
- Raute
- Quadrat
- Parallelogramm
- Trapez
- Drachen
- Dreieck



Quelle: Wikipedia

Note

Punkte:

/ 19

Unterschrift