

① Kreuze die jeweils richtigen Antworten an (es können auch mehrere Antworten richtig

In der Pixelgrafik taucht häufig die Einheit INCH auf. Ein INCH...

/ 2 Eine Pixelgrafik speichert...

/ 2

- ist im Deutschen 1 Zoll
- entspricht 1cm
- entspricht 2,54 cm
- entspricht 2,45 cm

- die Farbe jedes Pixels.
- die Größe jedes Pixels.
- die Position jedes Pixels.
- die Form jedes Pixels.

Bei welchen Pixel-Dateitypen muss ein Qualitätsverlust hingenommen werden?


/ 2 Auf dem Monitor werden Farben durch drei Grundfarben hergestellt. Das sind...

/ 2

- .jpg
- .gif
- .tiff

- Cyan, Magenta, Yellow und Black.
- Rot, Gelb, Grün
- Rot Grün Blau


② Janis hat das nebenstehende Werbebild mit dem Pixelgrafik-Programm PAINT.NET erstellt. Es ist 5 Zoll hoch und 2 Zoll breit. Pro Zoll hat er eine Auflösung von 100 Pixeln pro Zoll eingestellt. Pro Pixel werden 8 Bit Speicherplatz benötigt.



Werbebild

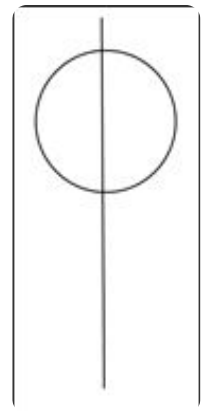
- a) Berechne, aus wie vielen Pixeln das Werbebild insgesamt besteht.
- b) Berechne den Speicherplatzbedarf des Bildes in Kilobyte.

/ 4




Eine zweite Pixelgrafik hat die gleichen Größe wie das Werbebild, enthält aber nur einen Strich. Ist die Speichergröße kleiner, gleich oder größer als die vom Werbebild? Entscheide und Begründe.

/ 2



Zweites Bild



Einem Obsthändler gefällt das Werbebild schon ganz gut. Allerdings wünscht er sich, dass die Möhre viel größer sein soll und der Blumenkohl kleiner. Janis hat das Plakat unter Verwendung von Ebenen erstellt. Begründe, dass das jetzt für ihn von Vorteil ist.

/ 2



Punkte: / 16