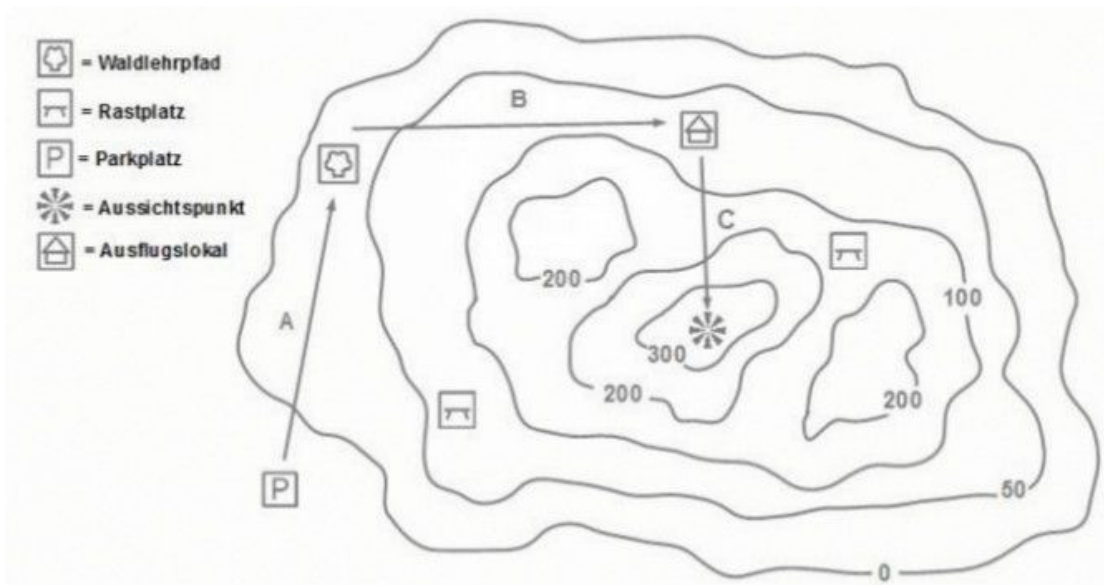


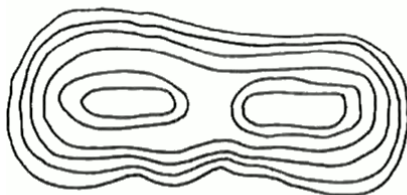
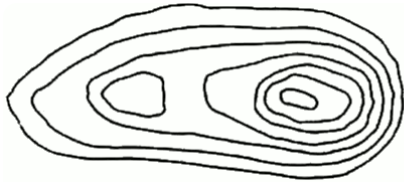
- ① Wähle weltweit unterschiedliche Punkte auf der topographischen Karte um das jeweilige Gelände zu laden.
- Wähle dabei auch Punkte in entfernten Gebieten, wie die Antarktis, Inseln, Hochgebirge sowie Tiefebene.
 - Beschreibe die Funktion der Farbgebung
 - Beschreibe die Funktion der Schattierung
 - Benenne Anwendungsbereiche von topographischen Karten

- ② Weise den folgenden Kartenpunkten die ungefähre Höhe in Metern zu.



<https://www.sachunterricht-grundschule.de>

- ③ Zeichne entweder die jeweilige Form des Geländes ein oder die Höhenlinien ein.



Eigene Darstellung

- ④ Zeichne exemplarisch Geländeformen welche nicht oder nur bedingt mit Höhenlinien gezeichnet werden können.