





① Wettervorhersage für die nächste Woche.

La previsión del tiempo con las temperaturas para la próxima semana.

Lunes	Martes	Miércoles	Jueves
 8°C	 6°C	 5°C	 0°C

Viernes	Sábado	Domingo
 -0,5°C	 -2°C	 -5°C

② Beantworte die Fragen in vollständigen Sätzen!

Responde a las siguientes preguntas en oraciones completas!

¿Qué día hace más calor?	_____
¿Cuántos grados hace?	_____
¿Qué día hace más frío?	_____
¿Cuántos grados hace?	_____
¿Cuántos días hay nieve?	_____
¿Cuántos días soleados hay?	_____
¿Cuántos días nublados hay?	_____
¿Cuántos grados de temperatura hay de diferencia entre el día que hace más frío y el día que hace más calor?	_____
¿A qué estación del año crees que corresponde esta previsión del tiempo?	_____
¿Por qué?	_____