
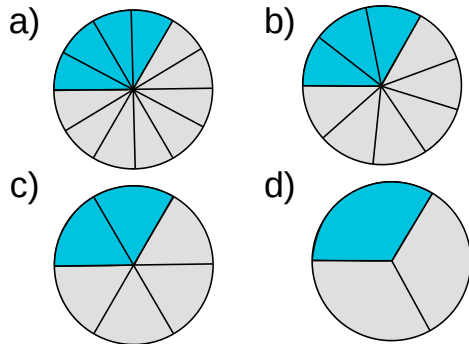


① Gib jeweils den Bruchteil der dunkleren Teile an.

/ 4



② Erstelle zu den aufgeführten Brüchen jeweils eine Figur.

/ 4

a) $\frac{1}{2}$

b) $\frac{3}{7}$

c) $\frac{5}{7}$

d) $\frac{6}{10}$

③ Wandle in einen unechten Bruch um.


/ 8

a) $3\frac{1}{2}$

b) $7\frac{3}{7}$

c) $6\frac{5}{7}$

d) $7\frac{6}{10}$



④ Wandle in einen gemischte Schreibweise um.


/ 8

a) $\frac{11}{2}$

b) $\frac{13}{7}$

c) $\frac{65}{7}$

d) $\frac{99}{10}$



Note

Punkte:

/ 24

Unterschrift