

Lernzielkontrolle „Deutschland“

① Wie viele Einwohner hat Deutschland? / 1

- ca. 62 Millionen
 ca. 72 Millionen

② Welche Farbe hat die deutsche Nationalflagge? / 1

- schwarz-grün-gold
 schwarz-rot-gold

③ Welches Tier ist Deutschlands Wappentier? / 1

- Löwe
 Adler
 Affe

④ Welche dieser Städte ist kein Bundesland? / 1

- Bremen
 Berlin
 Hamburg

⑤ Wie heißt Deutschlands höchster Berg? / 1

- Großglockner
 Matterhorn
 Zugspitze

⑥ Wer dieser Personen ist Deutschlands Staatsoberhaupt? / 1

- Bild 1 Bild 2 Bild 3 Bild 4




Abb. 1



Abb. 2


⑦ Wie heißt die Person? / 2

Jetzt darfst du deine Deutschlandkarte zur Hilfe nehmen!


⑧ Im Süden Deutschlands gibt es eine Stadt mit mehr als 1 Million Einwohnern. Wie heißt sie?  / 1

⑨ Wie heißt Deutschlands größte Insel?  / 1

⑩ Wie heißt die Landeshauptstadt von Mecklenburg-Vorpommern?  / 1

⑪ An welche Bundesländer grenzt Sachsen-Anhalt?  / 4

⑫ Wie viele Städte gibt es in Hessen, deren Einwohnerzahl zwischen 100.000 und  / 1

⑬ Suche auf der Karte die Stadt Osnabrück! (Tipp: Hier wohnen mehr als 100.000 Menschen.)  / 1

Zusatzaufgabe: Nenne alle Länder, die an Deutschland grenzen. (+2 Punkte)

Punkte:

/ 17

Note

Unterschrift