

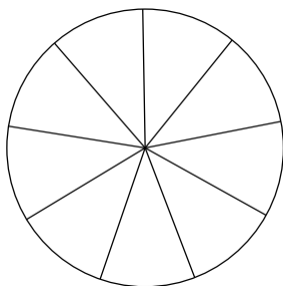
- ① Beschreibe die Bedeutung eines Bruches. Achte darauf, dass $\frac{\quad}{\quad}$ / 3 die beiden wichtigsten Begriffe darin vorkommen.

- ② Gib die grau gefärbten Teile als Bruch an. $\frac{\quad}{\quad}$ / 4

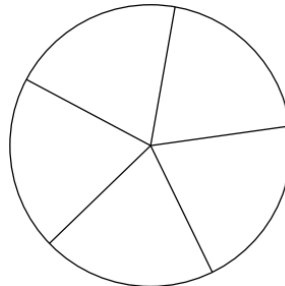


--	--	--	--

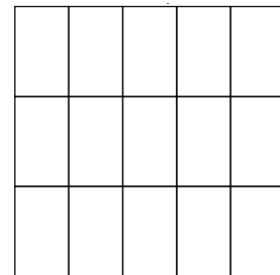
- ③ Färbe die Flächen entsprechend des Bruches. $\frac{\quad}{\quad}$ / 5



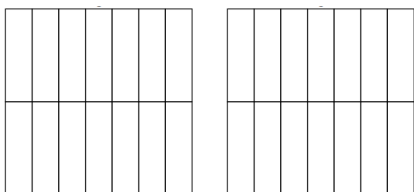
$$\frac{2}{9}$$



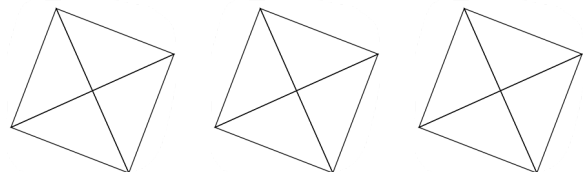
$$\frac{4}{5}$$



$$\frac{10}{15}$$



$$\frac{20}{14}$$



$$2\frac{1}{4}$$

