


④ Klammere aus.

● / 3

a) $5x - 5y$

b) $11x + 22$

c) $5x + 25y$



⑤ Multipliziere aus und fasse, wenn möglich, zusammen.


● / 6

a) $(x + 2)(x + 6)$

b) $(y - 9)(y - 6)$

c) $(a - 6)(b + 3)$

d) $(v + w)(x + y)$




⑥ **Wende die binomischen Formeln an.**

● / 4

a) $(x + 6)^2$

b) $(a-5)^2$

c) $(2x + 4)^2$



⑦ **Gib zu der Figur je einen Term an, mit dem du ihren Flächeninhalt und ihren Umfang bestimmen kannst.**

● / 4

